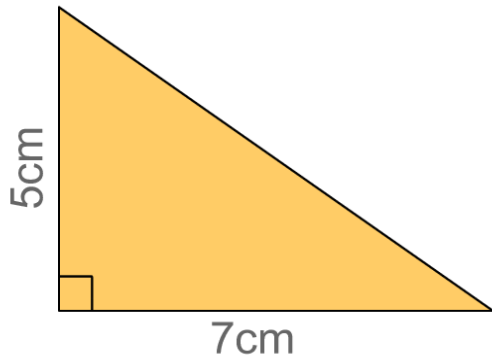


5年生の計算プリント

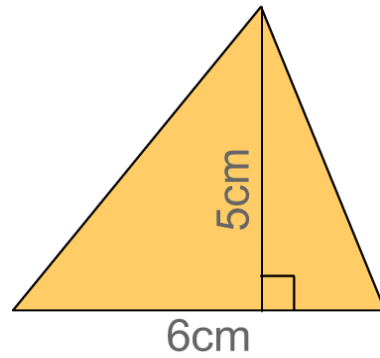
■三角形の面積(1)

名前 _____

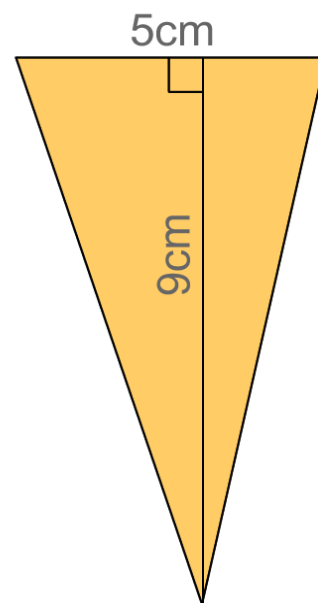
(ア)



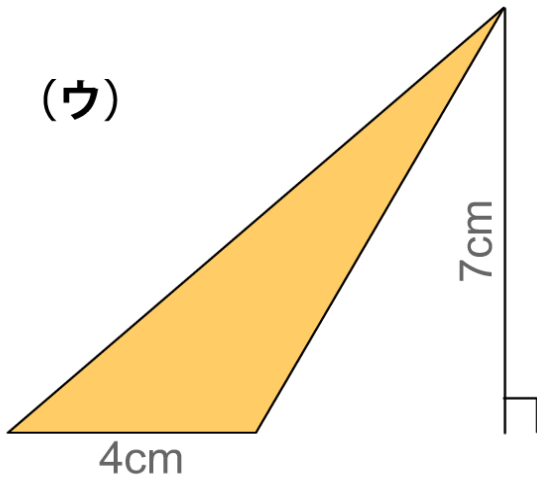
(イ)



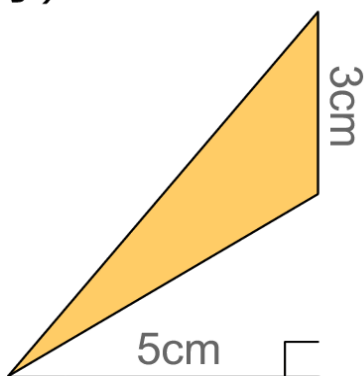
(エ)



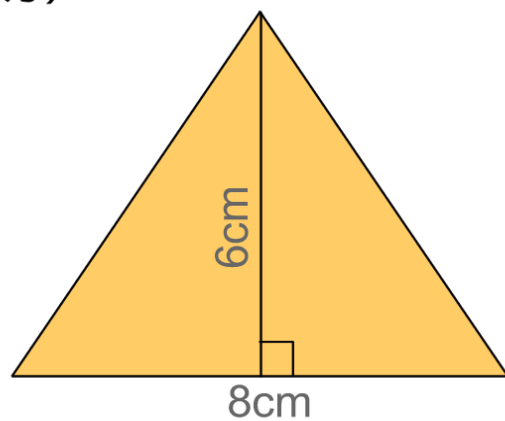
(ウ)



(オ)



(カ)



5年生の計算プリント

■三角形の面積(1)

名前 _____

解答用紙

(ア) 式

 答え

(イ) 式

 答え

(ウ) 式

 答え

(エ) 式

 答え

(オ) 式

 答え

(カ) 式

 答え

答え ■ 三角形の面積(1)

	式	答え
(ア)	$5 \times 7 \div 2 = 35 \div 2 = 17.5$	17.5 cm^2
(イ)	$5 \times 6 \div 2 = 30 \div 2 = 15$	15 cm^2
(ウ)	$4 \times 7 \div 2 = 28 \div 2 = 14$	14 cm^2
(エ)	$5 \times 9 \div 2 = 45 \div 2 = 22.5$	22.5 cm^2
(オ)	$3 \times 5 \div 2 = 15 \div 2 = 7.5$	7.5 cm^2
(カ)	$8 \times 6 \div 2 = 48 \div 2 = 24$	24 cm^2